



C.E.PR. Pablo de Olavide  
Prado del Rey. (Cádiz)

PRUEBA FINAL 2º CURSO.  
E. PRIMARIA.  
ÁREA DE MATEMÁTICAS



Consejería Educación y Ciencia

Nombre: \_\_\_\_\_ n.º lista \_\_\_\_\_ Grupo: \_\_\_\_\_

1. Coloca y resuelve estas cuentas de sumar y restar.

$$462 - 118 =$$

$$629 - 138 =$$

$$329 + 145 =$$

$$218 + 135 =$$

2. Coloca el resultado de cada operación.

$$319 + 4 =$$

$$528 + 6 =$$

$$620 + 5 =$$

$$815 + 5 =$$

3. Coloca y resta

$$385 - 40 =$$

$$424 - 5 =$$

4. Multiplica

$$43 \times 3 =$$

$$52 \times 4 =$$



C.E.PR. Pablo de Olavide  
Prado del Rey. (Cádiz)

PRUEBA FINAL 2º CURSO.  
E. PRIMARIA.  
ÁREA DE MATEMÁTICAS



Consejería Educación y Ciencia

$35 \times 5 =$

$12 \times 6 =$

5. Escribe el anterior y el posterior.

\_\_\_\_\_ 400 \_\_\_\_\_

\_\_\_\_\_ 545 \_\_\_\_\_

\_\_\_\_\_ 700 \_\_\_\_\_

\_\_\_\_\_ 299 \_\_\_\_\_

6. Continúa.

100 - 104 - 108 - \_\_\_\_\_ - \_\_\_\_\_ - \_\_\_\_\_ - \_\_\_\_\_

346 - 344 - 342 - \_\_\_\_\_ - \_\_\_\_\_ - \_\_\_\_\_ - \_\_\_\_\_

7. El doble de...

El doble de 5 es \_\_\_\_\_

El \_\_\_\_\_ de 7 es \_\_\_\_\_

El doble de 6 es \_\_\_\_\_

El \_\_\_\_\_ de 8 es \_\_\_\_\_

y el triple de...

El triple de 5 es \_\_\_\_\_

El \_\_\_\_\_ de 7 es \_\_\_\_\_

El triple de 6 es \_\_\_\_\_

El \_\_\_\_\_ de 8 es \_\_\_\_\_

8. Calcula la mitad.

La mitad de 20 es \_\_\_\_\_

La mitad de 8 es \_\_\_\_\_

La mitad de 24 es \_\_\_\_\_

La mitad de 6 es \_\_\_\_\_



C.E.PR. Pablo de Olavide  
Prado del Rey. (Cádiz)

PRUEBA FINAL 2º CURSO.  
E. PRIMARIA.  
ÁREA DE MATEMÁTICAS



Consejería Educación y Ciencia

9. Ordena de mayor a menor.

745 - 187 - 322 - 326 - 346 - 112 - 544

\_\_\_\_\_ > \_\_\_\_\_ > \_\_\_\_\_ > \_\_\_\_\_ > \_\_\_\_\_ > \_\_\_\_\_ > \_\_\_\_\_

10. Aproxima a...

La decena más cercana:

La centena más cercana:

584 - \_\_\_\_\_

260 - \_\_\_\_\_

157 - \_\_\_\_\_

691 - \_\_\_\_\_

11. ¿Qué número forman?

7 d y 4 u = \_\_\_\_\_

1 c, 2 d y 3 u = \_\_\_\_\_

8 c y 2 d = \_\_\_\_\_

7 c, 4 d y 5 u = \_\_\_\_\_


12. Escribe con letras.

518: \_\_\_\_\_

971: \_\_\_\_\_

13. Coloca en el reloj las agujas según se indica:

Si son las tres en punto y pasa media hora serán las...





PRUEBA FINAL 2º CURSO.  
E. PRIMARIA.  
ÁREA DE MATEMÁTICAS



C.E.PR. Pablo de Olavide  
Prado del Rey. (Cádiz)

Consejería Educación y Ciencia

14. Escoge, rodeando con rotulador rojo las monedas y billetes que necesitas para tener 61 €.


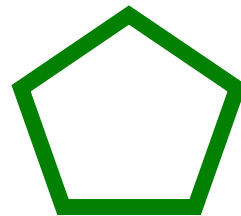
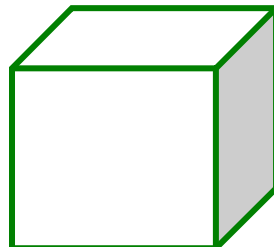

20 €	50 €	10 €	5 €	1 €
20 €	50 €	10 €	5 €	2 €

15. Relaciona con flechas

Metro  
Litro  
Kilo

Piscina  
Estatura  
Patatas

16. Escribe el nombre de estas figuras geométricas.



\_\_\_\_\_

\_\_\_\_\_

\_\_\_\_\_

\_\_\_\_\_

17. Escribe cuantos litros hay en total en estos recipientes:

1 litro




PRUEBA FINAL 2º CURSO.  
E. PRIMARIA.  
ÁREA DE MATEMÁTICAS



C.E.PR. Pablo de Olavide  
Prado del Rey. (Cádiz)

Consejería Educación y Ciencia



18. En mi clase hay 35 sillas y solo hay 33 alumnos y alumnas. ¿Cuántas sillas sobran?

19. En un almacén hay 147 latas de guisantes, 226 latas de atún y 22 botellas de aceite. ¿Cuántas latas hay en total?

20. Un bolígrafo vale 2 €. ¿Cuánto costarán 9 bolígrafos iguales?