

Nombre: _____ Curso: _____ Nº: _____

Fecha: _____ Colegio: _____

Calificación del control: _____ Nota: _____

Cuestiones: 1, 2, 3, 4 y 5: Un punto cada una. Cuestiones 6 y 7: 1,5 puntos cada una. Cuestión 8: 2 puntos.

Observaciones: _____

Fecha y Firma familiar/tutor/a legal.


1.- Escribe cuáles son las principales características de los invertebrados: _____

2.- Relaciona las tres columnas mediante flechas.

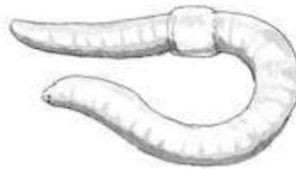
Artrópodos	•	•	cuerpo cubierto de placas duras	•	•	Espanja
Moluscos	•	•	cuerpo blando con muchos poros	•	•	Cangrejo
Equinodermos	•	•	piel endurecida y patas articuladas	•	•	Calamar
Gusanos	•	•	cuerpo blando y musculoso	•	•	estrella de mar
Poríferos	•	•	cuerpo blando y alargado	•	•	lombriz de tierra

3.- Indica a qué grupo de invertebrados pertenecen los siguientes seres vivos.


a



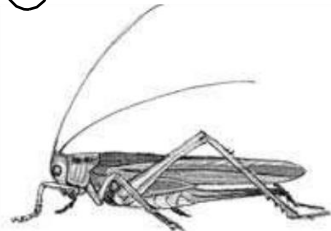
b




c



d



e



a)

b)

c)

d)

e)

4.- ¿Qué grupo de artrópodos se corresponde con cada definición?

a) Tienen cefalotórax y abdomen, y ocho patas.

b) Tienen cabeza con dos antenas, tórax y abdomen, y seis patas.

c) Tienen diez patas, cefalotórax, abdomen y antenas.

d) Tienen más de diez patas, cabeza y tórax con muchos segmentos.

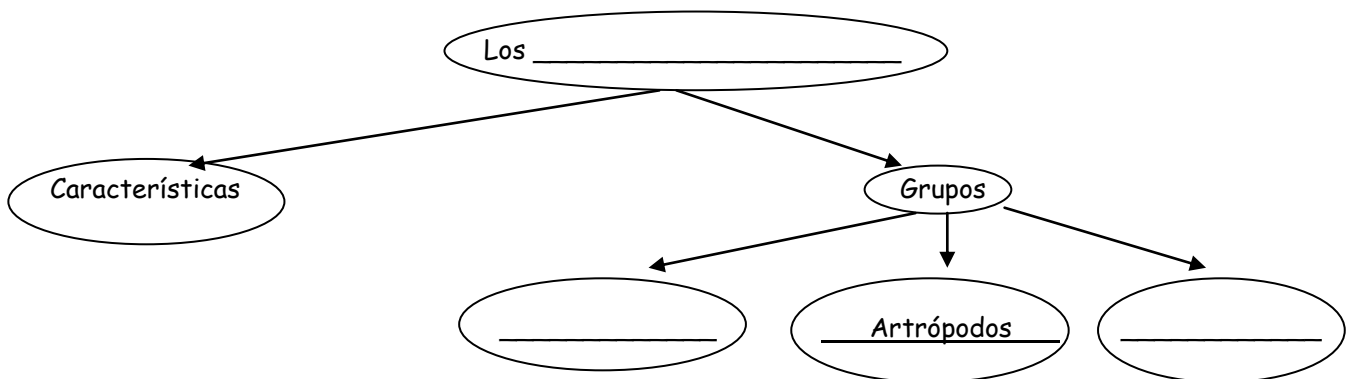
5.- Marca con una X los grupos de invertebrados.

- | | | | |
|-----------------------------------|------------------------------------|-------------------------------------|---------------------------------------|
| <input type="checkbox"/> Bivalvos | <input type="checkbox"/> Anfibios | <input type="checkbox"/> Artrópodos | <input type="checkbox"/> Reptiles |
| <input type="checkbox"/> Gusanos | <input type="checkbox"/> Poríferos | <input type="checkbox"/> Aves | <input type="checkbox"/> Equinodermos |
| <input type="checkbox"/> Medusas | <input type="checkbox"/> Peces | <input type="checkbox"/> Anémonas | <input type="checkbox"/> Gasterópodos |

6. Completa las ideas principales del tema.

- Los invertebrados no poseen una _____. Son _____ y se clasifican en moluscos, _____, gusanos, _____, equinodermos, _____, anémonas y corales.
- Los moluscos tiene el cuerpo _____ y, a veces, está protegido por una _____, casi todos son _____ y _____. Se clasifican en _____, _____ y gasterópodos.
- Los artrópodos son _____ con el cuerpo articulado cubierto por una _____. Se clasifican en insectos, _____, crustáceos y _____.
- Los gusanos son invertebrados con el cuerpo blando y _____. Pueden ser terrestres o acuáticos. Algunos son _____.
- Los poríferos tienen el cuerpo blando, _____ y con _____. Son _____.
- Los equinodermos tienen _____ y el cuerpo cubierto por una protección de piezas duras. Viven en el mar.
- Las medusas, las anémonas y los corales son acuáticos. Tienen el cuerpo _____. Los corales tienen un _____ duro.

7.- Completa el mapa conceptual de la Unidad



8. Pregunta de desarrollo: Los moluscos. Características y grupos de moluscos.